



Tecnologia & Concursos
Empresa Organizadora e Gestão de Concursos e Processo Seletivo Público



Caderno de Provas

Auxiliar de Serviços Público
Auxiliar de Serviços Público – Coveiro
Auxiliar de Serviços Público - Carpinteiro

Edital N°. 002/2023 – Prefeitura
Municipal de Alvorada de Minas/MG.


25 de junho de 2023

INSTRUÇÕES GERAIS PARA A REALIZAÇÃO DA PROVA

- Use apenas caneta esferográfica azul ou preta.
- Escreva o seu nome completo, número de inscrição e o número do seu documento de identificação no espaço indicado nesta capa.
- A prova terá duração máxima de 04 (quatro) horas, incluindo o tempo para responder a todas as questões do **Caderno de Provas** e preencher as **Folhas de Respostas**.
- Antes de retirar-se definitivamente da sala, entregue as **Folhas de Respostas** ao fiscal.
- O **Caderno de Provas** só poderá ser levado pelo candidato após o encerramento do prazo estabelecido para a sua aplicação.
- Este **Caderno de Provas** contém, respectivamente, 10 (dez) questões de Língua Portuguesa, 10 (dez) de Matemática e 05 (cinco) de Conhecimentos Gerais.
- Se o **Caderno de Provas** contiver alguma imperfeição gráfica que impeça a leitura, comunique isso imediatamente ao Fiscal.
- Cada questão de múltipla escolha apresenta apenas **UMA** resposta correta. Para a marcação da alternativa escolhida na Folha de **Respostas**, pinte completamente o campo correspondente conforme a figura a seguir:



Você deverá pintar apenas uma alternativa



- Os rascunhos e as marcações feitas neste **Caderno de Provas** não serão considerados para efeito de avaliação.
- Interpretar as questões faz parte da avaliação; portanto, não adianta pedir esclarecimentos aos Fiscais.
- O preenchimento das **Folhas de Respostas é de sua inteira responsabilidade**.
- A quantidade de questões e respectivas pontuações desta prova estão apresentadas a seguir:

Disciplina	Número de questões	Pontos
Língua Portuguesa (Objetivas)	10 questões	20 pontos
Matemática (Objetivas)	10 questões	20 pontos
Conhecimentos Gerais (Objetivas)	05 questões	10 pontos
Total de questões	25 questões	50 pontos

NOME COMPLETO: _____

NÚMERO DE INSCRIÇÃO: _____

DOCUMENTO DE IDENTIFICAÇÃO: _____



NÍVEL MÉDIO E TÉCNICO PROVA PORTUGUÊS - NÍVEL FUNDAMENTAL

Questões numeradas de 01 a 10

Leia o texto 1 abaixo e responda às questões 01 e 02:

Leia o trecho da música “A Vida de Viajante” de Luiz Gonzaga, apresentada a seguir.

Minha vida é andar
Por esse país
Pra ver se um dia
Descanso feliz
Guardando as recordações
Das terras por onde passei
Andando pelos sertões
E dos amigos que lá deixei.
Chuva e sol
Poeira e carvão
Longe de casa
Sigo o roteiro
Mais uma estação
E a alegria no coração
Mar e terra
Inverno e verão
Mostre o sorriso
Mostre a alegria
Mas eu mesmo não
E a saudade no coração

(Disponível em: <https://www.letras.mus.br/luiz-gonzaga/82381/>, acesso em: 16/06/2023).

QUESTÃO 01 –

A partir da leitura do título do poema, podemos afirmar que o texto tratará da(o)

- A) A vida de um viajante Sertanejo
- B) A vida de um mecânico Sertanejo
- C) A vida de um professor Sertanejo
- D) A vida de um fazendeiro Sertanejo

QUESTÃO 02 –

O poema retrata a saudade do poeta do ou da:

- A) Da Capital
- B) Dos sertões e dos amigos que deixou
- C) Do trabalho
- D) Da fazenda

QUESTÃO 03 –

No poema é evidenciado o nome de duas das estações do ano, marque a alternativa **CORRETA**:

- A) Inverno e primavera.
- B) Outono e verão
- C) Primavera e outono
- D) Inverno e verão

QUESTÃO 04 –

Ainda com base no **texto 1**, “A Vida de Viajante” de Luiz Gonzaga, atribua **(V)** para as assertivas verdadeiras ou **(F)** para as assertivas falsas.

- () Na letra da canção expressa-se a trajetória de um viajante.
 - () A canção trata dos costumes da população carioca.
 - () A canção denuncia a fragilidade social provocada pela seca no sertão, quando utiliza as palavras chuva e sol, poeira e carvão.
 - () Ao buscar ser feliz em outro lugar, o poeta está indo atrás da felicidade (pra ver se um dia descanso feliz)
 - () A prosperidade econômica de outras regiões do Brasil, com melhores ofertas de trabalho, saúde e educação não atraiu o sertanejo que queria melhorar suas condições de vida.
- A) V – F – V – V – F
B) F – F – V – F – V
C) V – V – F – F – V
D) F – V – F – V – F

**QUESTÃO 05 -**

Observe a charge abaixo.



Disponível em:

<http://www.arionaucartuns.com.br/2020/04/charge-poluicao-lixo-na-cidade.html>, acesso em: 16/05/2023.

NÃO é correto afirmar que:

- A) Existe uma forma de conscientização da sociedade sobre a importância de preservação do meio ambiente.
- B) A destinação que a pessoa dá ao seu lixo doméstico também é importante para o saneamento e limpeza da sua cidade.
- C) O lixo jogado em vias públicas, além de aumentar os gastos públicos para realizar a limpeza dos riachos e córregos, também podem trazer sérios riscos de entupimentos de bueiro o que causa enchentes.
- D) O lixo quando chegam nos rios, não contaminam a água e nem polui o solo.

QUESTÃO 06 -

Assinale a opção **INCORRETA** do antônimo da palavra sublinhada.

- A) Vidas importantes / Vidas insignificante.
- B) Rapaz alegre / Rapaz abatido.
- C) Trabalho com diversas adversidades / Trabalho com diversos problemas.
- D) Bolo gostoso / Bolo ruim.

QUESTÃO 07 -

Assinale a forma **CORRETA** de dividir, em sílabas, a palavra empreendedor

- A) em-preen-de-dor
- B) em-pre-en-de-dor
- C) em-pre-en-dedor
- D) em-preende-dor

QUESTÃO 08 -

Os substantivos amiguinho, casarão, bolinha, gotinha são respectivamente:

- A) aumentativo, aumentativo, diminutivo, diminutivo
- B) aumentativo, aumentativo, aumentativo, diminutivo
- C) diminutivo, aumentativo, diminutivo, diminutivo
- D) aumentativo, diminutivo, diminutivo, aumentativo

QUESTÃO 09 -

Assinale a alternativa em que há apenas substantivos do gênero feminino.

- A) vaca, pata
- B) homem, gato
- C) avião, leão
- D) cantor, menino



QUESTÃO 10 –





Assinale a alternativa em que a sequência de palavras está grafada **CORRETAMENTE**.

- A) mexicano, xuxu, caxumba
- B) mexicano, chuchu, caxumba
- C) mechicano, xuxu, cachumba
- D) mechicano, chuchu, caxumba

PROVA DE MATEMÁTICA
Questões numeradas de 11 a 20

QUESTÃO 11 –

João foi em uma loja e comprou diversos brinquedos para sua filha nos seguintes valores:

 200,00	 30,00
 12,00	 80,00

O total que João Gastou em sua compra foi de:

- A) R\$ 312,00
- B) R\$ 222,00
- C) R\$ 322,00
- D) R\$ 422,00

QUESTÃO 12 -

Uma fazendeira comprou 10 pacotinhos de sementes para fazer a sua horta. Cada revista custou 5 reais. Quanto a fazendeira gastou com os pacotes de sementes?

- a) 15 reais.
- b) 25 reais.
- c) 50 reais.
- d) 100 reais.

QUESTÃO 13 –

Paulo decidiu economizar algum dinheiro durante algumas semanas conforme abaixo:



Quanto Paulo economizou?

- A) R\$ 35,50
- B) R\$ 39,00
- C) R\$ 42,00
- D) R\$ 39,50

**QUESTÃO 14 –**

Um produtor de queijo da região de Alvorada de Minas produz três tipos de queijos. A produção de um dia está representada no quadro a seguir.

Tipo	CAIXAS PRODUZIDAS EM UM DIA	QUANTIDADE DE QUEIJO EM CADA CAIXA
Padrão ou queijo curado	45	4
Frescal ou queijo minas	35	3
Canastra	25	2

O Produtor produz, em um dia, quantos queijos de cada tipo?

- A) 160, 100, 60.
B) 140, 110, 40.
C) 170, 105, 55
D) 190, 95, 70.


QUESTÃO 15 –

Comprei uma motosserra e uma roçadeira de disco, pagando pelos dois R\$ 1.566,99. Sabendo que a motosserra custou R\$ 976,00, o preço da roçadeira de disco foi de.

- A) R\$ 590,99.
B) R\$ 596,00.
C) R\$ 595,49.
D) R\$ 599,00.

QUESTÃO 16 –

A figura geométrica a seguir é chamada de:



- A) losango.
B) retângulo.
C) trapézio.
D) quadrado.

QUESTÃO 17 –

Dona Judite pretende comprar um secador de cabelo em uma loja que custa R\$ 240,00. Só que Judite possui em sua bolsa a seguintes quantia em notas na sua carteira, conforme a abaixo:




Se o secador de cabelo custa R\$ 240,00, qual é o valor que falta para Judite conseguir comprar o secador de cabelo?

- A) R\$ 63,00
B) R\$ 43,00
C) R\$ 53,00
D) R\$ 23,00



QUESTÃO 18 –

Veja, no quadro a seguir, os corações que estão no quadro a seguir são:



- A) duas dezenas e sete unidade.
- B) duas centenas e sete unidades.
- C) uma dezena e sete unidades.
- D) três dezenas e sete unidades

-----//-----
QUESTÃO 19 –

O professor solicitou ao estudante para ler um capítulo do livro que iniciava na página 74 e terminaria na página 136. Esse capítulo tem a seguinte quantidade de páginas:

- A) 72.
- B) 36.
- C) 62.
- D) 55.

-----//-----
QUESTÃO 20 –

Bruna tem 18 anos, sendo mais velha do que Cecília. A soma das idades das duas é igual a 35. Qual é a idade de Cecília?

- A) 16
- B) 14
- C) 19
- D) 17

**PROVA DE MATEMÁTICA DE
CONHECIMENTOS GERAIS
Questões numeradas de 21 a 25**

QUESTÃO 21 -

Complete a lacuna e assinale a alternativa CORRETA:

Joaquim José da Silva Xavier, também conhecido pelo apelido _____ ficou famoso por sua participação atuante na Inconfidência Mineira. Tragicamente, ele foi o único dos participantes no movimento a ser punido com a pena de morte, uma vez que os outros envolvidos foram perdoados pela Coroa Portuguesa.

- A) Duque De Caxias
- B) José Bonifácio
- C) Tiradentes
- D) Almirante Tamandaré

-----//-----
QUESTÃO 22 -

A capital do estado mineiro é a cidade de:

- A) Sete lagoas
- B) Belo Horizonte
- C) Curitiba
- D) Curvelo

-----//-----
QUESTÃO 23 -

Marque corretamente, a Região que localiza o estado de Minas Gerais.

- A) Sudeste
- B) Norte
- C) Centro-Oeste
- D) Sul



QUESTÃO 24 -

Acerca dos rios existentes na região do município de Alvorada de Minas, assinale a única alternativa **INCORRETA**:

- A) Rio Landim
- B) Rio Campina
- C) Rio Tanque do Carumbé
- D) Rio Piracicaba

-----//-----

QUESTÃO 25 -

A região de Alvorada de Minas, sobretudo em seu distrito de Itapanhoacanga, volta a ser o centro de extrativismo mineral, com exploração de jazidas de minério de ferro. A jazida se estende desde o distrito de:

- A) São Sebastião do Bonsucesso (conhecido como SAPO) até as proximidades do Serro/MG.
- B) São Sebastião do Bonsucesso (conhecido como SAPO) até as proximidades de Belo Horizonte/MG.
- C) São Sebastião da Lagoa (conhecido como Vale do Silício) até as proximidades de Datas/MG.
- D) São Sebastião do Paraíso (conhecido como Maravilha) até as proximidades de Diamantina/MG.

RASCUNHO